

Otázky z požiarnej ochrany

1. Za dodržanie predpisov o ochrane pred požiarmi v škole bezprostredne zodpovedá:

- A) školník
- B) riaditeľ školy
- C) učiteľský dozor

2. Aké sú správne rozmery (dĺžka a priemer) požiarnych hadíc

- A) hadica B dĺžka 15 m a priemer 76mm , hadica C dĺžka 15 m a priemer 35 mm
- B) hadica B dĺžka 20 m a priemer 75mm , hadica C dĺžka 20 m a priemer 52 mm
- C) hadica B dĺžka 25 m a priemer 75mm , hadica C dĺžka 25 m a priemer 52 mm

3. Aký prietok dosiahneme na prúdnicu „C “ s hubicou 12,5 mm a pri tlaku 0,4 MPa

- A) 500litrov /nim.
- B) 100litrov /nim.
- C) 200litrov /nim.

4. Vypaľovať trávnaté porasty môžeme:

- A) iba keď je suchá tráva
- B) môžeme vypaľovať po celý rok pod dozorom dospelých
- C) je prísne zakázané!

5. K čomu slúži hydrantový nadstavec:

- A) na odber vody z podzemného hydrantu
- B) na rozdelenie vodných prúdov pri útočnom vedení
- C) na primiešanie penidla do čerpadla požiarnej striekačky

6. Kto je patrónom hasičov a kedy si ho pripomíname:

- A) Svätý Urban, 25. mája
- B) Svätý Florián, 4. mája
- C) Svätý Hubert, 3. novembra

7. Čo znamená skratka PPS-12:

- A) Prenosná požiarňa striekačka, ktorá dodáva 12 litrov vody za sekundu
- B) Cisternová požiarňa striekačka, ktorá dodáva 120 litrov vody za sekundu
- C) Prenosná požiarňa striekačka, ktorá dodáva 1200 litrov vody za minútu

8. K čomu slúži pretlakový ventil:

- A) je to zariadenie na usmernenie prúdu vody do terča
- B) je to zariadenie na umožnenie nasatia vody do čerpadla
- C) je to poistné zariadenie slúžiace na ochranu hadicového vedenia

9. Základným výkonným článkom organizačnej štruktúry Dobrovoľnej požiarnej ochrany SR je:

- A) Závodná hasičský zbor
- B) Dobrovoľný hasičský zbor
- C) Dobrovoľná požiarňa ochrana

10. Kto sa môže stať členom Dobrovoľnej požiarnej ochrany SR:

- A) každý občan Slovenskej republiky
- B) každý človek, ktorý dovŕši 21 rokov, riadi sa Stanovami a programom DPO SR
- C) každý občan Slovenskej republiky, ktorý dovŕšil 15 rokov, riadi sa Stanovami SPO SR a programom DPO SR, do veku 18 rokov musí mať súhlas zákonného zástupcu

Vyobrazenie technických prostriedkov



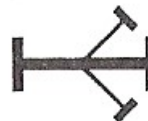
Prúdnica C



Kľúč na polospojky a šróbenia (Hákový kľúč)



Sací kôš



Rozdeľovač



Zberač



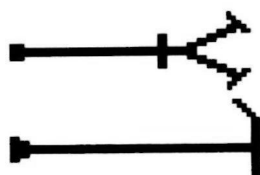
Hadica C v kotúči



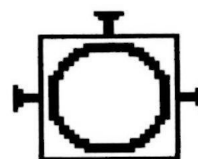
Záchytné lanko



Stojatý ejektor



Hydrantový nadstavec
kľúč k podz. hydrantu

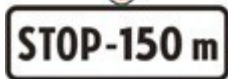


Pretlakový
ventil

Prenosný hasiaci prístroj

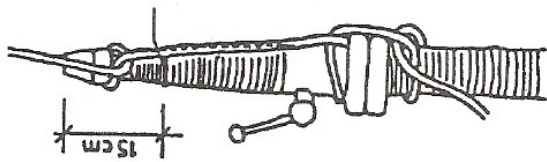
- A) vodný
- B) penový
- C) práškový
- D) CO₂ (snehový)

Dopravné značky

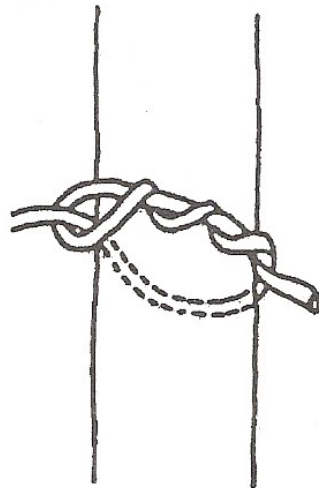


- zakazuje vjazd cyklistom,
- upozorňuje na miesto, kde cyklisti prechádzajú vozovku alebo na ňu vchádzajú,
- prikazuje cyklistom zastaviť.
- vyznačuje vzdialenosť k značke "Stoj, daj prednosť v jazde!" pre ktorú je zároveň predbežnou značkou
- prikazuje vodičovi zastaviť vozidlo do vzdialenosti 150 m
- upozorňuje vodiča, že vo vzdialenosti 150 m bude mať prednosť v jazde
- Zákaz odbočovania vpravo
- Nebezpečné stúpanie
- Zákruta vpravo
- Zákaz vjazdu všetkých nemotorových vozidiel a električiek,
- Zákaz vjazdu osobných automobilov,
- Zákaz vjazdu všetkých motorových vozidiel s výnimkou motocyklov bez postranného vozíka.
- vedľajšiu cestu; na príkaz tejto značky je vodič povinný zastaviť vozidlo na takom mieste, odkiaľ má na križovatku náležitý rozhľad,
- slepú ulicu,
- zastávku vozidla pravidelnej verejnej dopravy osôb.
- Zákaz vjazdu bicyklov.
- Cestička k požičovni bicyklov.
- Cestička pre cyklistov; značka prikazuje cyklistom použiť takto označený pruh alebo cestičku.
- Rýchlostná cesta,
- Hlavná cesta,
- Vedľajšia cesta.

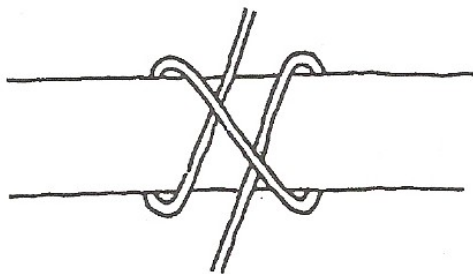
Vyobrazenie uzlov



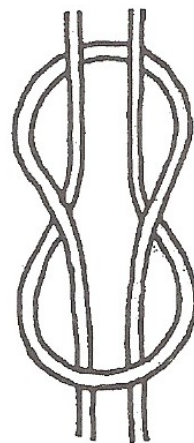
úváz na prúdnici



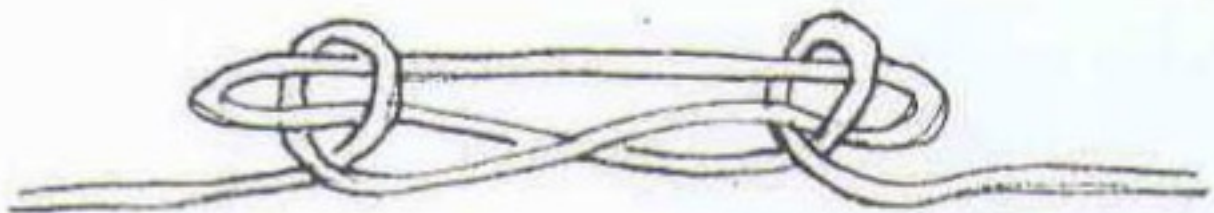
tesársky uzol



lodná slučka



plochá spojka



SKRACOVACÍ UZOL